

生体システム工学 II

次の [II - 1] ~ [II - 3] の 3 題を, それぞれ別の解答用紙に答えよ.

[II - 1]

図 1 に示すように, xyz 座標の原点 O に中心を持つ半径 r_0 の球 S_0 を $x = x_P$ で表される平面 P ($0 < x_P < r_0$) で切った球冠 S を考える. θ は 図 1 (a) のように S_0 と P で一意に決まる角度である. 以下の問いに答えよ.

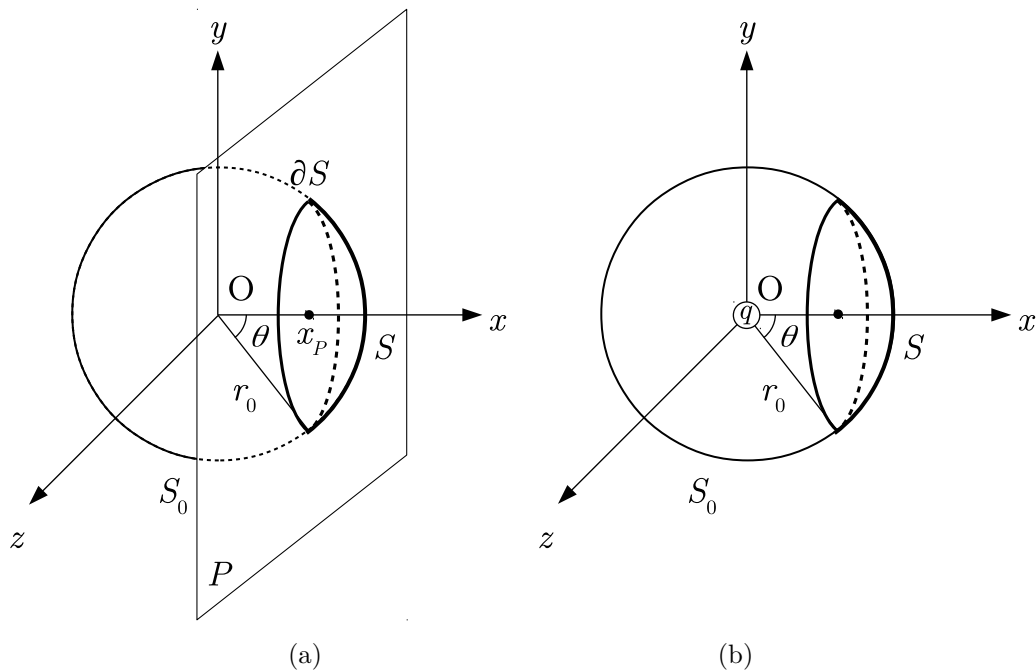


図 1

(問 1) S の面積とその周囲 ∂S の長さを, r_0 と θ を用いて表せ.

(問 2) 真空中において, 図 1 (b) に示すように正に帯電した点電荷 (真電荷) q が時間 $t = 0$ で O に存在する場合, q に伴い発生する電束密度を S_0 表面, ならびに, S で面積分した値を計算せよ.

図 2 (a) に示すように q が一定速度 \mathbf{v} で $+x$ 方向に移動しており, 図 2 (b) の O から点 A までの距離 Δx 進んだとする. O と S 上の任意の点 B を結ぶ直線と A と B を結ぶ直線が作る角度を $\Delta\theta$ とし, Δx は r_0 と比べると十分小さく $\Delta\theta \simeq 0$ が成り立つとする.

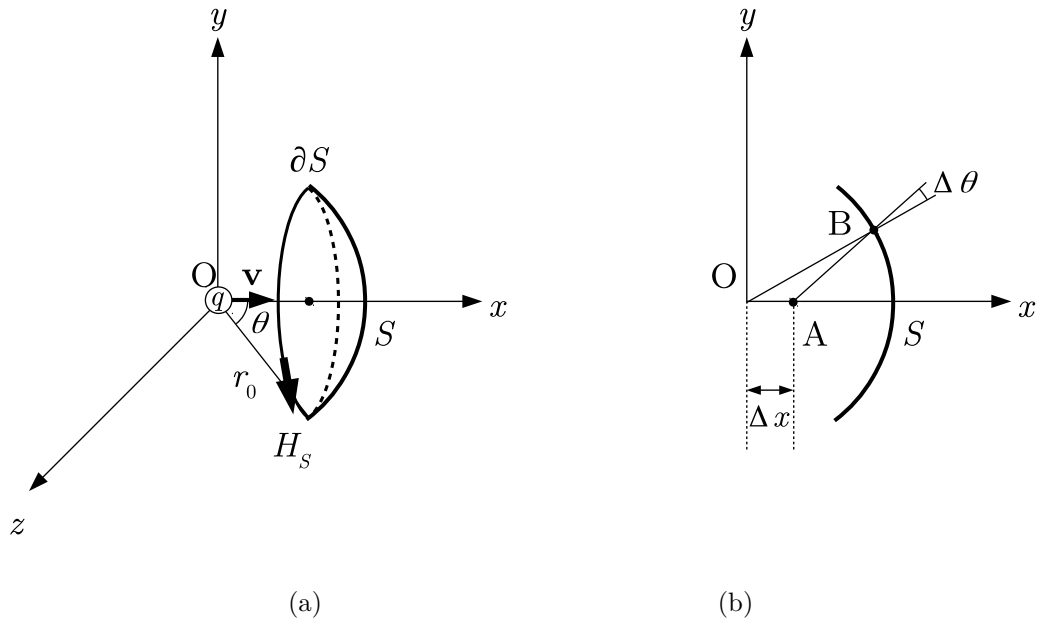


図 2

(問 3) q が $O - A$ 間に存在する時, 電束密度の S での面積分値を時間で偏微分せよ. 但し, 式 (1) が成り立つとする.

$$\frac{\partial \theta}{\partial t} \simeq \frac{|\mathbf{v}| \sin \theta}{r_0} \quad (1)$$

(問 4) q の移動に伴い発生する磁界は x 軸対称となり, 図 2 (a) に示すように, ∂S 上では接線成分のみ有し, その大きさを H_S とする. ∂S で磁界を周回積分した結果を, r_0, H_S, θ を用いて表現せよ.

(問 5) 伝導電流密度 $\mathbf{J} = \mathbf{0}$ としてマクスウェル・アンペール方程式を S に適用し, H_S と q の関係を求めよ.

[II - 2]

図 1 (a) に示すように, 十分長い一次元平行伝送線上の接近した二点 P, Q, ならびに, P', Q' を考え, P, P' の座標を x , Q, Q' の座標を $x + \Delta x$ とする. 図 1 (b) はこの区間の等価回路であり, R, L は, 各々, 伝送線の単位長あたりの抵抗 (Ω/m), 単位長あたりのインダクタンス (H/m), G, C は, 各々, 伝送線間の単位長あたりの漏れコンダクタンス (S/m), 単位長あたりの静電容量 (F/m) である. P - P' 間, Q - Q' 間の電位差を, 各々, $v(x, t)$, $v(x + \Delta x, t)$, P, Q における電流を, 各々, $i(x, t)$, $i(x + \Delta x, t)$ とする. t は時間である. 以下の問いに答えよ.

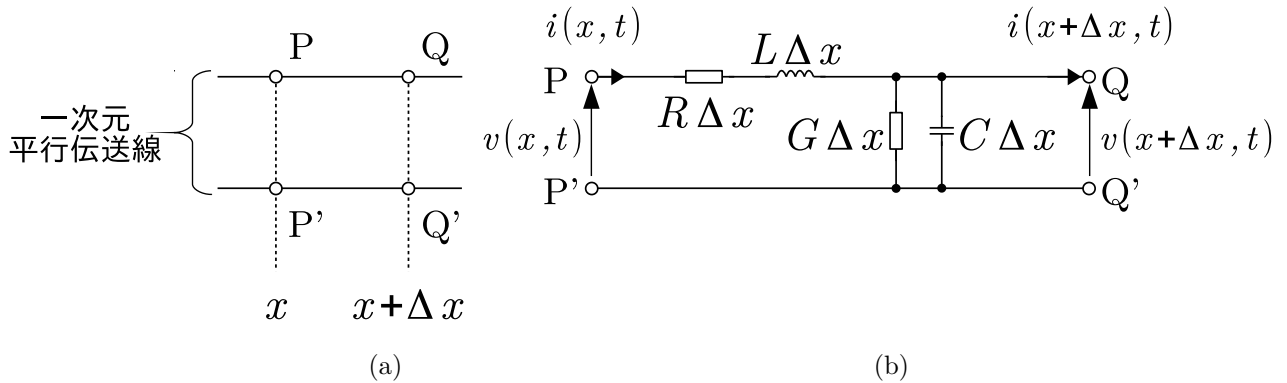


図 1

- (問 1) $v(x, t) - v(x + \Delta x, t)$ を $i(x, t)$, R, L を用いて表わせ.
- (問 2) $i(x, t) - i(x + \Delta x, t)$ を $v(x + \Delta x, t)$, G, C を用いて表わせ.
- (問 3) (問 1), (問 2) で求めた式より, $v(x, t)$, および, $i(x, t)$ の一階空間微分を求めよ.
- (問 4) (問 3) の結果より, $v(x, t)$ の二階空間微分を $v(x, t)$, ならびに, $v(x, t)$ の時間微分を用いて表わせ.
- (問 5) (問 4) で導出した式において, $R = G = 0$ とした時の方程式を書き下せ. また, この方程式は何と呼ばれるかを答えよ.
- (問 6) $v(x, t) = V(x) \exp(j\omega t)$ として ($j^2 = -1$, ω : 角周波数), (問 5) の結果を $V(x)$ が従う常微分方程式に書き直せ.
- (問 7) 式 (1), (2) の条件で, (問 6) で導出した方程式を解け.

$$V(0) = V_0 \tag{1}$$

$$\frac{dV(0)}{dx} = 0 \tag{2}$$

[II - 3]

図 1 (a) のように, 真空中の x - z 平面内を伝播する理想的な単色光の平面波を考える. このとき, 光波の電場は複素数表現を用いて,

$$E(\mathbf{r}, t) = E_0 \exp \{j(\omega t - \mathbf{k} \cdot \mathbf{r} + \phi)\} \quad (1)$$

と表される. ここで, E_0 は振幅, $\mathbf{r} = (x, z)$ は位置ベクトル, t は時間, \mathbf{k} は波数ベクトル, ϕ は $t = 0$ のときの原点 O における位相, j は虚数単位であり, $\mathbf{k} \cdot \mathbf{r}$ は \mathbf{k} と \mathbf{r} の内積を表す. 単色光の角周波数を ω , 真空中の光の速さを c とすると, 光の波数ベクトル \mathbf{k} の向きは光波の伝播方向と一致し, 大きさは $k = |\mathbf{k}| = \omega/c$ である. 以下の問いに答えよ.

(問 1) 図 1 (b) のように z 軸の負の方向に伝播する振幅 E_0 , 角周波数 ω の単色光の平面波を考える.

(ア) 複素数表現を用いて z 軸上の電場 $E(z, t)$ を表せ. ここでは, $(z, t) = (0, 0)$ における位相を 0 とする.

(イ) 同位相面が移動する速度 (位相速度) を求めよ.

(問 2) a を定数とする. 波長 λ の光波において同位相面が $x + \sqrt{3}z = a$ で与えられるとき, 波数ベクトル \mathbf{k} を求めよ.

(問 3) 振幅 E_0 が等しく角周波数がわずかに異なる 2 つの単色光の平面波が, 同じ向きに伝播し合成波となる場合を考える. これらの光波は z 軸方向に伝播し, 波数の大きさをそれぞれ k_1, k_2 , 角周波数をそれぞれ ω_1, ω_2 とする. また, 2 つの光波の位相を, $(z, t) = (0, 0)$ において, ともに 0 とする. さらに, $\bar{k}, \bar{\omega}, \Delta k, \Delta \omega$ を次のように定義する.

$$\bar{k} = \frac{k_1 + k_2}{2}, \quad \bar{\omega} = \frac{\omega_1 + \omega_2}{2}, \quad \Delta k = \frac{k_1 - k_2}{2}, \quad \Delta \omega = \frac{\omega_1 - \omega_2}{2}$$

(ア) 合成波の電場が

$$E(z, t) = 2E_0 \cos(\Delta \omega t - \Delta k z) \exp \{j(\bar{\omega} t - \bar{k} z)\}$$

となることを示せ.

(イ) (ア) の結果は, z 軸上の各点において時間とともに電場の振幅が変調する, うなりが発生することを意味している. このうなりの周波数を求めよ.

(ウ) うなりが伝わる速度 (群速度) を求めよ.

(問 4) 波長 λ の単色光を 2 つの平行光に分け, その後, 図 1 (c) のように, z 軸と $\pm\theta$ の角度で入射させる. $z = 0$ の直線 (x 軸) 上にスクリーンを設置するとき, そこに見られる干渉縞について考える.

(ア) 2 つの光波の振幅を, それぞれ, E_1, E_2 とするとき, $z = 0$ の直線 (x 軸) 上の電場 $E(x, t)$ を, 複素数表現を用いて表せ. ここでは, $t = 0$ のとき, 原点 O における 2 つの光波の位相を, それぞれ, ϕ_1, ϕ_2 とする.

(イ) 光波の電場の複素数表現 $E(\mathbf{r}, t)$ が与えられたとき, その強度は, $|E(\mathbf{r}, t)|^2$ に比例する. $z = 0$ の直線上において, $|E(x, t)|^2$ を計算することで, スクリーンに現れる干渉縞の間隔を求めよ.

(問 5) レーザ光のドップラー効果を利用した血流速度の計測原理を考える. 以下では, レーザ光を周波数 f_0 の単色光として考える. 図 2 に示したように, 半透鏡により, 2 つの光路に分けられたレーザ光が, レンズにより測定面上で交差するように光学系を構成する. ここでは, 測定面に対するレーザの入射角を θ とする. このとき, 測定面上に速さ v で移動する粒子がある場合には, 光路 1, 光路 2 を通り, 粒子により散乱されたレーザ光の周波数は, ドップ

ラーシフトにより, それぞれ,

$$f_1 = f_0 + \Delta f \quad (2)$$

$$f_2 = f_0 - \Delta f \quad (3)$$

となる. ここで, Δf はドップラー周波数と呼ばれ,

$$\Delta f = \frac{f \sin \theta}{c} v \quad (4)$$

で与えられる. ここで, c は, 測定空間の光の速さである. 光検出器で, 散乱された 2 波を合成し, 光の強度を電気信号に変換することにより, 血流の速さ v が計測できることを説明せよ.

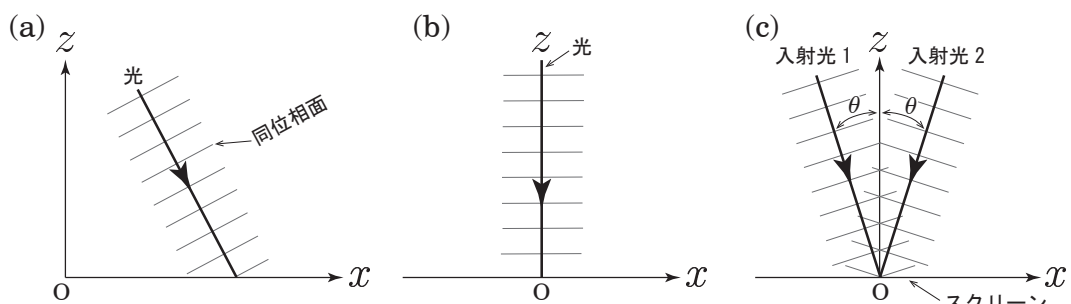


図 1 x - z 平面内を伝播する平面波の模式図

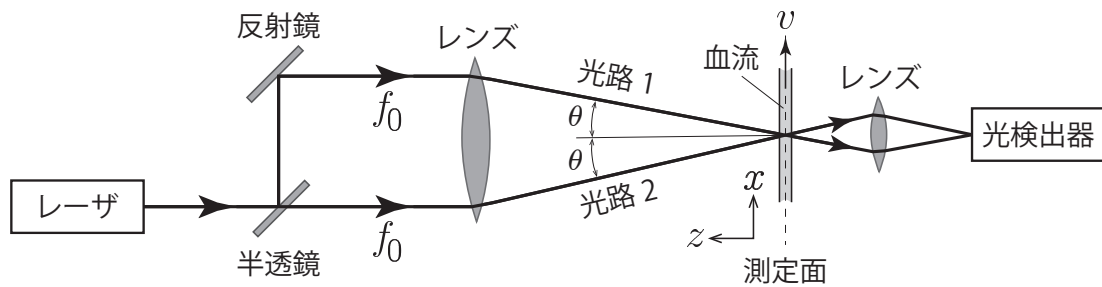


図 2 差動形レーザドップラー速度計の基本構成